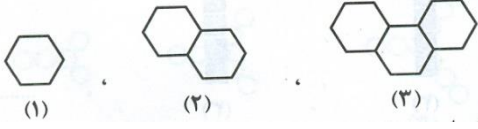
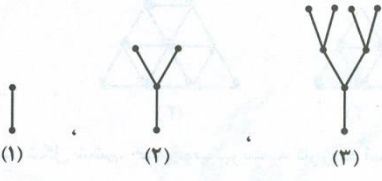


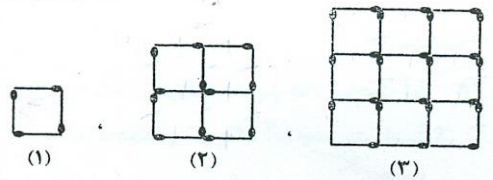
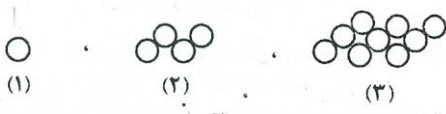
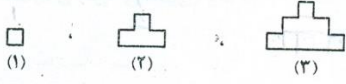




<p>۱/۵</p>	<p>جاهای خالی را کامل کنید .</p> <p>جمع عدد زوج با زوج ، عددی است</p> <p>تفریق عدد زوج با زوج ، عددی است</p> <p>جمع عدد فرد با زوج ، عددی است</p> <p>تفریق عدد فرد با زوج ، عددی است</p> <p>جمع عدد فرد با فرد ، عددی است</p> <p>تفریق عدد فرد با فرد ، عددی است</p>
<p>۱/۵</p>	<p>دنباله ی زیر را در نظر بگیرید :</p>  <p>اگر طول اضلاع هریک از شش ضلعی ها ، یک سانتی متر باشد محیط شکل صدم ، چند سانتی متر است ؟</p> <p>(۱) ۳۹۸ (۲) ۴۰۰ (۳) ۴۰۲ (۴) ۴۰۴</p>
<p>۱</p>	<p>الگوی زیر را در نظر بگیرید :</p>  <p>تعداد نقطه های شکل دهم ، چند تا است ؟</p> <p>(۱) ۲۵۶ (۲) ۵۱۲ (۳) ۱۰۲۴ (۴) ۲۰۴۸</p>
<p>۱</p>	<p>با تعدادی چوب کبریت ۵۰ مربع متوالی می سازیم تعداد چوب کبریت ها چقدر است ؟</p>  <p>(۱) ۱۵۰ (۲) ۱۵۱ (۳) ۱۵۲ (۴) ۱۵۴</p>
<p>۱</p>	<p>با یازده چوب کبریت می توان یک سطر مثلث چسبیده به هم ، مطابق شکل زیر ساخت . اگر شما با ۸۹ چوب کبریت یک سطر مثلث چسبیده به هم ، بسازید تعداد کل مثلث های کشیده شده ، چند تا است ؟</p>  <p>(۱) ۴۰ (۲) ۴۲ (۳) ۴۴ (۴) ۴۶</p>
<p>۱</p>	<p>دنباله ی شکل های زیر را که از چوب کبریت ساخته شده است در نظر بگیرید :</p>  <p>محیط شکل صدم از چند چوب کبریت ساخته شده است ؟</p> <p>(۱) ۳۹۶ (۲) ۴۰۰ (۳) ۴۰۴ (۴) ۴۰۸</p>
<p>۲</p>	<p>الگوی شکلی روبه رو را در نظر بگیرید :</p>  <p>در ساخت شکل دهم چند دایره وجود دارد ؟</p> <p>(۱) ۵۰ (۲) ۹۰ (۳) ۱۰۰ (۴) ۱۱۰</p>

۸	دنباله ی شکل های زیر را در نظر بگیرید :  اگر اندازه ی هر پاره خط کوچک مساوی یک سانتی متر باشد مساحت شکل صدم چند سانتی متر مربع است ؟
۱	(۱) ۱۰۰۰ (۲) ۴۰۰۰ (۳) ۹۰۰۰ (۴) ۱۰۰۰۰
۹	عدد بعدی الگوی زیر کدام است ؟ ۴۸، ۴۶، ۴۲، ۳۶، ۱
۱	(۱) ۳۰ (۲) ۲۹ (۳) ۲۸ (۴) ۲۷
۱۰	عدد بعدی الگوی داده شده کدام است ؟ ۱، ۱/۵، ۱/۷۵، ۱
۱	(۱) ۲ (۲) ۱/۸۷۵ (۳) ۲/۲۵ (۴) ۱/۸۰
۱۱	کدام یک از اعداد زیر بر ۳ و ۹ و ۶ و ۵ و ۲ و ۱۵ بخش پذیر است ؟ ۱
۱	(۱) ۱۲۰ (۲) ۱۴۵ (۳) ۱۸۰ (۴) ۹۴
۱۲	کدام یک از عددهای زیر هم بر ۲ هم بر ۳ و هم بر ۵ بخش پذیر است ؟ ۱
۱	(۱) ۴۸۶ (۲) ۹۵۰ (۳) ۸۷۰ (۴) ۹۳۶
۱۳	به عدد ۷۰۰۱ چند واحد اضافه کنیم تا بر ۵ بخش پذیر باشد ؟ ۱
۱	(۱) ۶ (۲) ۷ (۳) ۸ (۴) ۹
۱۴	مجموع ارقام کوچکترین عدد چهاررقمی که هم بر ۳ و هم بر ۲ بخش پذیر باشد کدام است ؟ ۱
۱	(۱) ۱ (۲) ۲ (۳) ۳ (۴) ۶
۱۵	کدام یک از اعداد زیر بر ۲ و ۵ و ۹ بخش پذیرند ؟ ۱
۱	(۱) ۲۸۳۵ (۲) ۹۴۳۲ (۳) ۴۴۱۰ (۴) ۴۳۲۱۰
۱۶	کدام یک از اعداد زیر بر ۴ بخش پذیر است ؟ ۱
۱	(۱) ۴۱۹۴ (۲) ۵۰۲۶ (۳) ۸۹۰۲ (۴) ۳۴۴۴
۱۷	اگر عدد زوجی را در ۳ ضرب کنیم حاصل ضرب همواره بر چه عددی بخش پذیر است ؟ ۱
۱	(۱) ۹ (۲) ۱۲ (۳) ۶ (۴) ۱۸
۱۸	باقیمانده کدام یک از اعداد زیر بر ۹ برابر ۵ است ؟ ۱
۱	(۱) ۱ (۲) ۵۵۵۵ (۳) ۱۲۳۵ (۴) ۱۷۲۰